


# CAMPIONATUL JOCURILOR ȘI ENIGMELEOR

Traducere de Ioana Apostolescu



ANTRENEAZĂ-ȚI  
INTENSIV  
MUȘCHII  
CREIERULUI!



CORINT JUNIOR

# CUPRINS

**Nivelul 1: Echipează-ți creierul..... 5**

**Nivelul 2: Prinde ritmul!.....31**

**Nivelul 3: Cu toată viteza înainte!.... 57**

**Nivelul-bonus: Ai prins ideea?..... 83**

**Răspunsuri: ..... 108**



# **NIVELUL 1: ECHIPEAZĂ-ȚI CREIERUL**

PENTRU  
ÎNCEPUT,  
SĂ O LUĂM  
UȘOR!



# EFFECTUL DE DOMINO

Care piesă portocalie de domino (A, B, C sau D) completează cea de-a treia secvență? Verifică-ți răspunsul la final!

1

--	--	--	--

2


--	--	--	--

3

			<div style="border: 1px solid black; width: 40px; height: 60px; display: flex; align-items: center; justify-content: center; font-size: 24px;">?</div>
--	--	--	--

--	--	--	--

**A**   **B**   **C**   **D**



# FIX LA ȚINTĂ!

Găsește numărul lipsă folosind primele două ținte. (Indiciu: ceva este pe dos!)




# MICUL MANIAȚ




Ce număr completează șirul?



# „X” MARCHEAZĂ LOCUL



Găsește numărul lipsă pentru a completa enigma. (Indiciu: fi atent la numerele de la capătul fiecărei linii.)



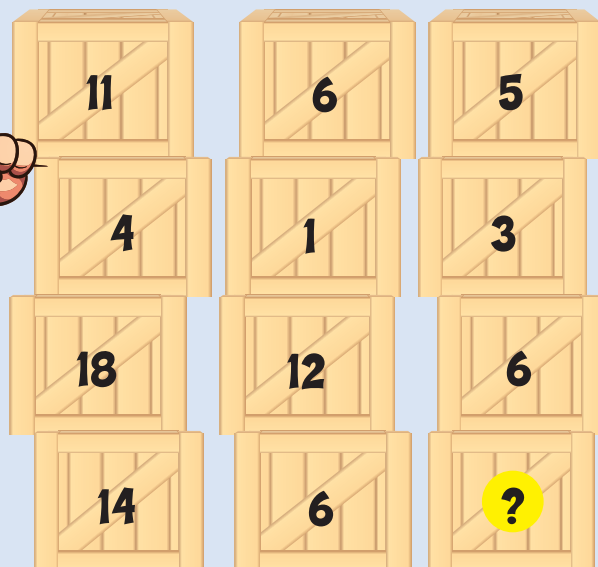
Găsește numărul corect pentru a înlocui semnul întrebării. (Indiciu: urmărește relația dintre numerele aflate în fiecare segment.)



# TOATĂ DISTRACTIA BÂLCIULUI


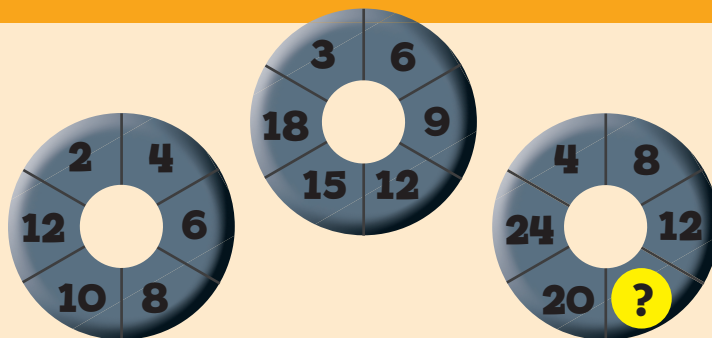
# CUTII ȘI ÎNDEMÂNARE

Poți ghici numărul care lipsește din cutia goală? (indiciu: scade din prima cutie!)

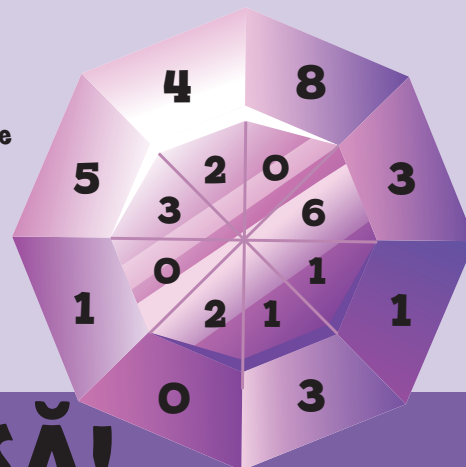


# CE ROLE GROZAVE!

Poți afla ce număr lipsește? (indiciu: te-ar ajuta să știi tabla înmulțirii!)



Imaginează-ți că desenezi o linie dreaptă prin mijlocul pietrei prețioase. Care este legătura între numerele pe care le atinge linia?




# PIATRA PREȚIOASĂ!

# PE URMELE LOGICII

Pe fiecare șir cu urme de lăbuțe, ce aduni la fiecare număr pentru a obține numărul din dreapta lui? Acum găsește numerele lipsă.

<b>A</b>	3	5	8	12	17	23
<b>B</b>	7	9	?	16	21	27
<b>C</b>	1	3	6	?	15	21
<b>D</b>	?	10	13	17	22	28
<b>E</b>	2	?	7	11	16	22
<b>F</b>	10	12	15	19	?	30



# CUM ZBOARĂ TIMPUL...

Care dintre ecranele digitale din dreapta completează șirul de ceasuri?

--	--	--	--	--



- A**
- B**
- C**

# SĂ RIDICĂM UN ZMEU!

Care dintre zmeiele galbene din stânga îl va înlocui pe cel cu semnul întrebării? (Indiciu: fii atent la coloane, nu la rânduri.)



# ESTE TIMPUL SĂ NE VEDEM CU LUPUL CEL MARE ȘI RĂU?



Care dintre cele patru ceasuri albastre de sus ar trebui să înlocuiască ceasul fără oră de la capătul rândului de jos?